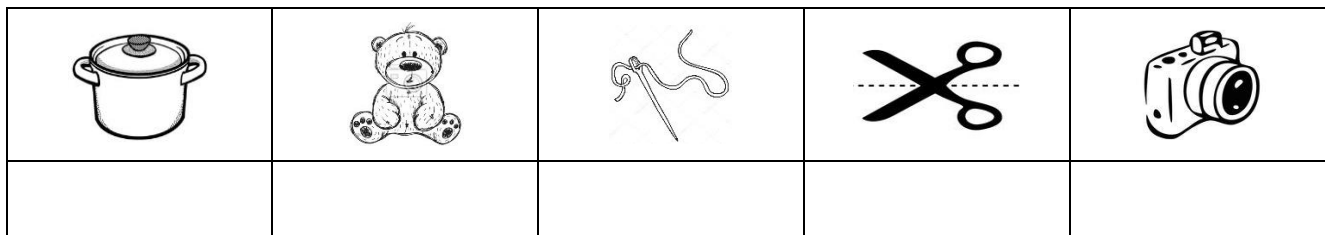


Temat: Samorząd gminny.

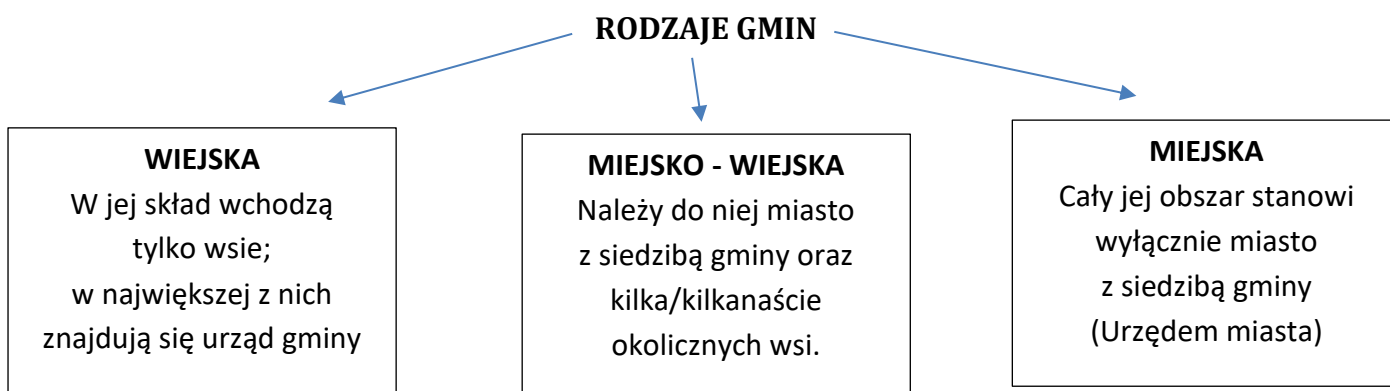
1. Rozwiąż szyfrowankę.



**Zapamiętaj!**

..... jest podstawową jednostką w trójstopniowym podziale administracyjnym Polski.

Wyróżnia się trzy rodzaje gmin, w zależności od tego, jakie obszary znajdują się na ich terytorium.



2. Podkreśl właściwe dokończenie zdań.

GMINĄ NAZYWAMY

- miejsce pracy urzędników gminnych.
- miejscowość, w której znajduje się siedziba samorządu.
- podstawową jednostkę podziału terytorialnego w Polsce.
- obszar składający się z co najmniej trzech miast.

GMINĘ MIEJSKO-WIEJSKĄ TWORZĄ


- duże miasto oraz pobliskie miejscowości liczące do 5 tysięcy mieszkańców.
- miasto i okoliczne wsie.
- miasto oraz tereny w promieniu 2 km od niego.
- duże miasto.

3. Rozwiąż rebusy.


Gmina posiada władze, które podejmują decyzje dotyczące spraw lokalnych.


W gminie wiejskiej władzę sprawuje:

a)  k = da ..... gminy,


b)  zek = jt .....,

natomiast w gminie miejsko – wiejskiej lub miejskiej:


c)  io = a ..... miasta ,

d)  ak = mistrz .....

4. Uzupełnij zdania.

W miastach liczących powyżej 100 tys. osób urzęduje  ent = ydent .....

Wójta , burmistrza lub prezydenta miasta oraz członków rady, nazywanych

 kieta = dnymi ....., wybierają mieszkańcy danej gminy

w wyborach samorządowych odbywających się co cztery lata.

5. Uzupełnij brakujące informacje.

Gmina realizuje wiele różnorodnych zadań. Dzielą się one na:

- **zadania** ..... - polegające na zaspakajaniu potrzeb mieszkańców (np.: usuwanie odpadów, prowadzenie szkół)
- **zadania** ..... - wykonywane w imieniu państwa (np.: wydawanie dowodów osobistych, rejestrowanie ludności)

